

Oferta

Oficyny Edukacyjnej * Krzysztof Pazdro

Podręczniki do klasy 3.



Spis rozdziałów – zakres podstawowy

1. Ułamki algebraiczne. Równania wymierne
2. Ciągi
3. Kombinatoryka
4. Geometria płaska – czworokąty
5. Geometria płaska – pole czworokąta
6. Geometria analityczna



Spis rozdziałów – zakres rozszerzony

1. Ułamki algebraiczne. Równania i nierówności wymierne. Funkcje wymierne
2. Ciągi
3. Kombinatoryka. Dwumian Newtona. Trójkąt Pascala
4. Geometria płaska – czworokąty
5. Geometria płaska – pole czworokąta
6. Elementy analizy matematycznej
7. Trygonometria
8. Geometria analityczna

Podręcznik
dla
nauczyciela



Zbiory zadań do klasy 3.



Spis rozdziałów – zakres podstawowy

1. Ułamki algebraiczne. Równania wymierne
2. Ciągi
3. Kombinatoryka
4. Geometria płaska – czworokąty
5. Geometria płaska – pole czworokąta
6. Geometria analityczna



Spis rozdziałów – zakres rozszerzony

1. Ułamki algebraiczne. Równania i nierówności wymierne. Funkcje wymierne
2. Ciągi
3. Kombinatoryka. Dwumian Newtona. Trójkąt Pascala
4. Geometria płaska – czworokąty
5. Geometria płaska – pole czworokąta
6. Elementy analizy matematycznej
7. Trygonometria
8. Geometria analityczna

Zbiór zadań
dla
nauczyciela



Oferta maturalna i nie tylko

Poziom podstawowy



MATEMATYKA
ZBIÓR ZADAŃ
z próbnych arkuszy maturalnych
1000 zadań
+ pięć nowych arkuszy
Dwa nowe arkusze na maturę 2022

MATEMATYKA
ZBIÓR ZADAŃ
z próbnych arkuszy maturalnych
1000 zadań
+ pięć nowych arkuszy

POZIOM PODSTAWOWY



Poziom rozszerzony



MATEMATYKA
ZBIÓR ZADAŃ
z próbnych arkuszy maturalnych
444 zadania
+ trzy nowe arkusze
Dwa nowe arkusze na maturę 2022

MATEMATYKA
ZBIÓR ZADAŃ
z próbnych arkuszy maturalnych
444 zadania
+ trzy nowe arkusze

POZIOM ROZSZERZONY



Rekomendacja zbioru zadań
poziom podstawowy,
dostępna na YouTube
<https://youtu.be/6lrRwnvtlwo>

Oferta maturalna i nie tylko

Poziom podstawowy



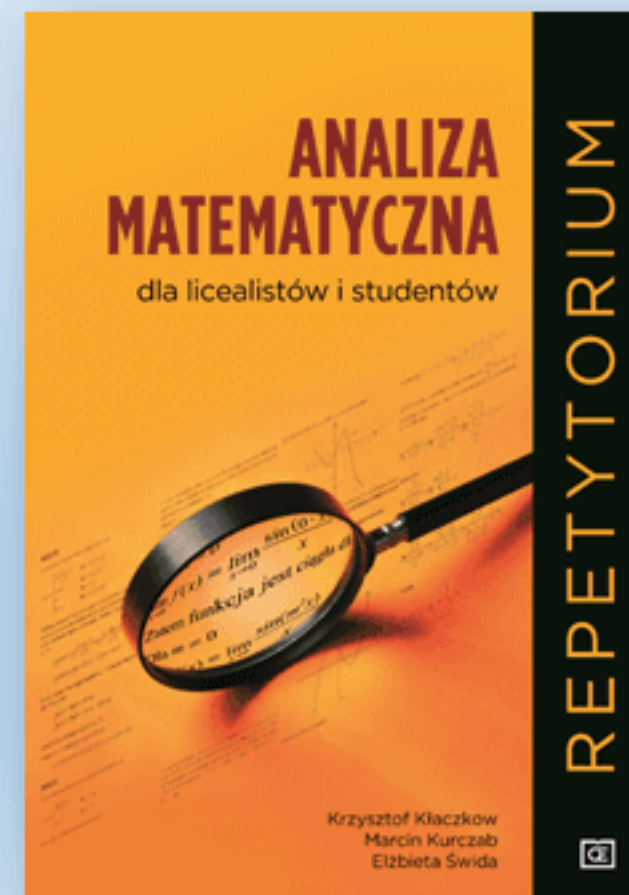
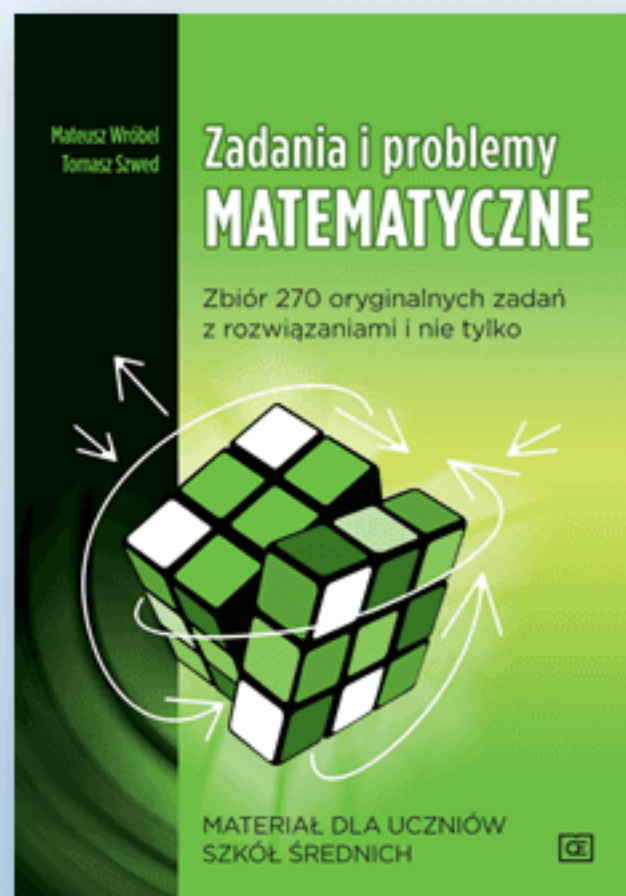
HIT!

Poziom rozszerzony

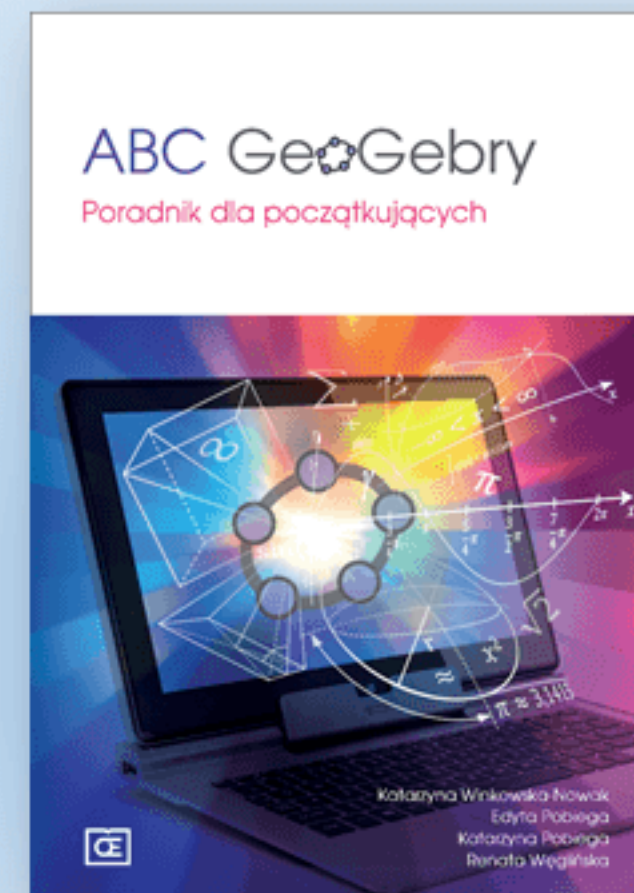
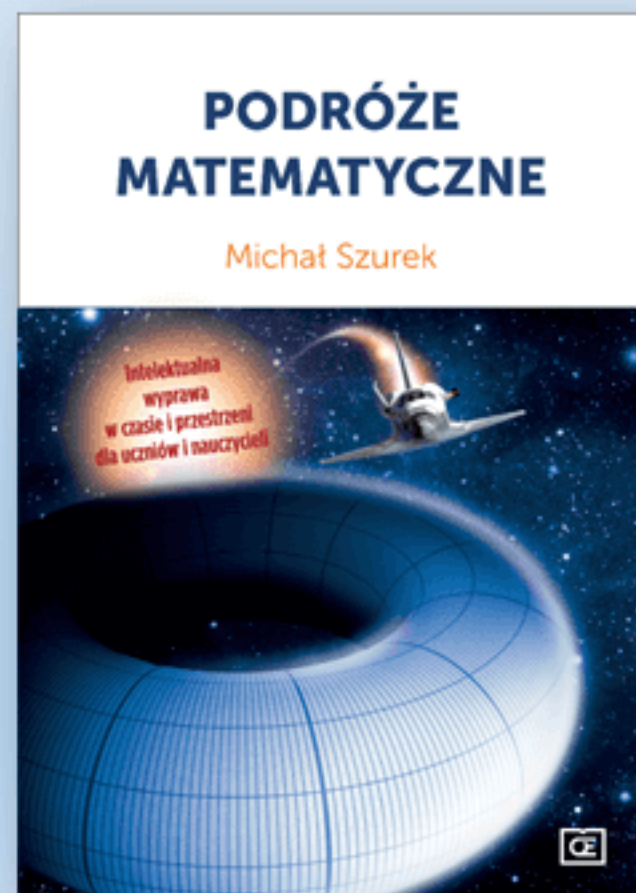
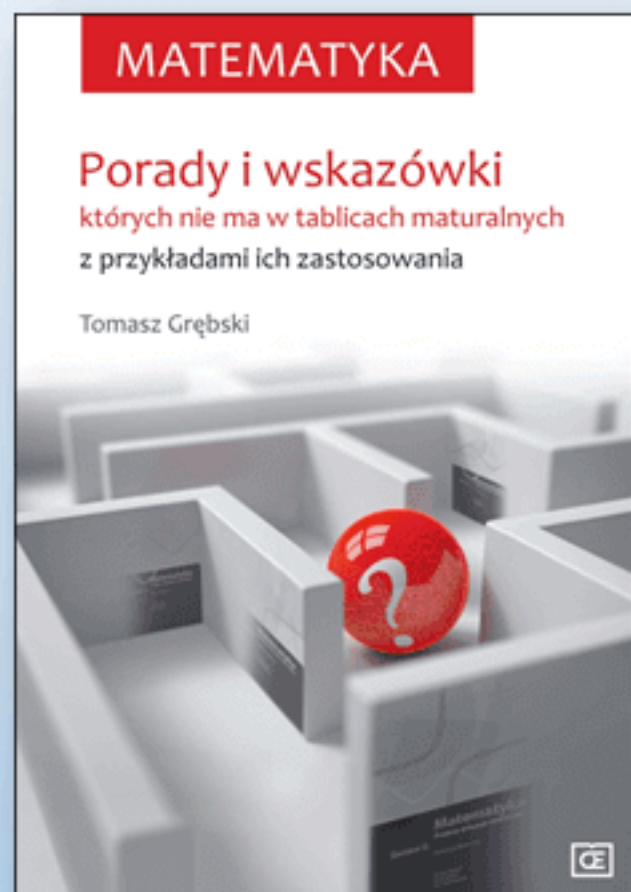


HIT!

Oferta maturalna i nie tylko



Oferta maturalna i nie tylko



Testy on-line

www.pazdro.net*

Aktualnie w aplikacji:

100 testów

2200 zadań

67 testów dla uczniów klas 1, 2 i 3

33 testy maturalne

pazdro.net[®] Strona główna Wzory GeoGebra - ćwiczenia

Stereometria - Test nr 1

Zadanie nr 15

Wskaż rysunek, na którym zaznaczono kąt między krawędzią boczną a płaszczyzną podstawy w ostrosłupie prawidłowym czworokątnym.

A.

B.

C.

D.

◀ Poprzednie zadanie

Następne zadanie ▶

Zakończ test

OFICyna EDUKACYJNA KRZYSZTOF PAZDRO

* dla nauczycieli korzystających z podręczników Oficyny Edukacyjnej * Krzysztof Pazdro

Nasze podręczniki i zbiory zadań są drukowane na papierach drzewnych, dzięki temu:

- są ekologiczne – biodegradowalne
- są przyjazne w użytkowaniu – m.in. zdrowe dla oczu
 - mniej ważą – lżejszy plecak

